

Шифр 1001

Задания для обучающихся











Теоретический тур

Время выполнения – 90 минут

Максимальный балл – 100 баллов

МОДУЛЬ 1

ЗАДАНИЕ 1. Найдите соответствие между животным и оружием.

	Животное		Оружие
1.		А	
2.		Б	
3.		В	
4.		Г	
5.		Д	

1. Тигр	2. Лиса	3. Барсук	4. Лягушка	5. Носорог
А	Б	В	Г Д	Г

Оценочные баллы: максимальный – 10 баллов; фактический – 2 баллов

Подписи членов жюри: _____

ЗАДАНИЕ 2. При получении травмы до прибытия скорой медицинской помощи пострадавшему следует придать оптимальное положение тела, обеспечивающее комфорт, уменьшающее степень страданий и не усугубляющее нарушения жизненно важных функций. Определите травму по описанию оптимального положения пострадавшего, относительно характера повреждений. Ответ впишите в таблицу.

Вид травмы	Положение тела
	Расположить пострадавшего в полусидячем положении с наклоном туловища на пораженную сторону. Для этого пострадавшего можно опереть о стену, автомобиль и т.д.
	Пострадавшему лучше находиться в положении лежа на спине с полусогнутыми и разведенными ногами. Под колени подкладывается импровизированная опора – сумка, свернутая одежда
	Пострадавшему придается удобное положение, при котором он испытывает меньше страданий от имеющихся повреждений
	Пострадавшему необходимо придать устойчивое боковое положение.
	Пострадавший должен находиться в положении лежа на спине с приподнятыми ногами, под которые подкладываются сумки или одежда
	Пострадавший должен располагаться на твердой ровной поверхности

Оценочные баллы: максимальный – 12 баллов; фактический – 0 баллов

Подписи членов жюри: _____

ЗАДАНИЕ 3. Расставьте номера частей в верном порядке, чтобы получить определение некого термина и напишите, о чем идет речь.

- 1) ... насильственных действий ...
- 2) ... формами противоправных ...
- 3) ... населения и (или) иными ...
- 4) ... организациями, связанные с устрашением ...
- 5) ... самоуправления или международными ...

654321

ВСЕРОССИЙСКАЯ ОЛИМПИАДА ШКОЛЬНИКОВ 2022/23 гг.

ВСОШ

ВСЕРОССИЙСКАЯ
ОЛИМПИАДА
ШКОЛЬНИКОВ

МУНИЦИПАЛЬНЫЙ ЭТАП
ОСНОВЫ БЕЗОПАСНОСТИ ЖИЗНЕДЕЯТЕЛЬНОСТИ
10-11 КЛАСС

- 6) ... органами местного ...
7) ... решения органами государственной власти ...
8) ... воздействия на принятие ...
9) ... насилия и практика ...
10) ... идеология ...

идеология

Порядок строк									
10	9	8	7	6	5	4	3	2	1
Термин - терроризм 15									

Оценочные баллы: максимальный - 11 баллов; фактический - 11 баллов

Подписи членов жюри: *Челарф* *А*

ЗАДАНИЕ 4. Для упрощения составления инструкций и отчетов часто используются аббревиатуры, подразумевается, что они легко расшифровываются. Впишите полное значение аббревиатур в таблицу.

Аббревиатура	Расшифровка аббревиатуры
АСДНР	
АХОВ	
ЗСГО	
КЧС и ПБ	
НАСФ	
ОКСИОН	
РСЧС	
РХБЗ	
СДЯВ	Активнодействующее ведомство безопасности 15
СЭП	Сборный эвакуационный пункт 15

Оценочные баллы: максимальный – 10 баллов; фактический – 2 баллов

Подписи членов жюри: _____

ЗАДАНИЕ 5. В соответствии с требованиями статьи 90 Уголовного кодекса РФ несовершеннолетнему, совершившему преступление небольшой или средней тяжести, могут быть назначены принудительные меры воспитательного воздействия. Перечислите их.

1. _____
2. _____
3. _____
4. _____

Оценочные баллы: максимальный – 12 баллов; фактический – 0 баллов

Подписи членов жюри: _____

МОДУЛЬ 2

Тестовые задания

В вопросах с 1 по 15, включительно, выберите только один правильный ответ. В вопросах с 16 по 20 необходимо выбрать несколько правильных ответов. Букву (буквы) выбранного варианта ответа на задание впишите в правый столбец. Если в дальнейшем потребуется корректировка выбранного варианта ответа, то неправильный вариант ответа зачеркивается, а рядом вписывается новый.

№	Тестовые задания	Ответ
Определите один правильный ответ		
1	Максимальный срок хранения противогаза ГП-7: а) 10 лет б) 12 лет в) 15 лет г) 17 лет	в 2
2	Этот вид кровотечения склонен к самопроизвольной остановке: а) капиллярное; б) паренхиматозное; в) венозное; г) артериальное.	д 2

№	Тестовые задания	Ответ
3	Намеренное насильственное нарушение прав человека, оскорбительные действия, причинившие физический, моральный или психологический вред, это: а) агрессия; б) буллинг; в) экстремизм; г) притеснение.	б) —
4	Определите площадь ожога тела взрослого человека, если у него поражены живот и обе ладони: а) 7% б) 11% в) 18% г) 21%	б) 2
5	Основы безопасности жизнедеятельности охватывают три уровня, выберите лишний: а) Законодательный б) Научный в) Организационный г) Ограничительный	в) 2
6	Заболевание, связанное с белково-калорийной недостаточностью: а) фибродисплазия; б) прогерия; в) квашиоркор; г) бакуровит.	в) —
7	Крепитация костей, это: а) хруст, возникающий при переломе; б) процедура укрепления костей опорно-двигательного аппарата; в) насыщение костной ткани витаминными элементами; г) удаление обломков костей при оказании первой помощи.	в) —
8	Закон, определяющий право на отсрочку от призыва на военную службу: а) «Об обороне» б) «О воинской обязанности и военной службе» в) «О мобилизационной подготовке и мобилизации в Российской Федерации» г) «О военном положении»	б) 2
9	Какое вещество превышает более чем в 10 раз предельно-допустимую концентрацию в городе Омске: а) формальдегид; б) бензпирен; в) сероводород; г) диоксид серы.	а) 2

№	Тестовые задания	Ответ
10	<p>Название какого воинского звание изначально происходит от слова «Конюх»?</p> <p>а) Ефрейтор б) Прапорщик в) Майор г) Маршал</p>	<p>2</p> <p>2</p>
11	<p>Какого возраста должны достигнуть граждане Российской Федерации, для законного приобретения пневматического оружия с дульной энергией не более 7,5 Дж и калибра до 4,5 мм включительно:</p> <p>а) 14 лет; б) 16 лет; в) 18 лет; г) 21 год.</p>	<p>8</p> <p>2</p>
12	<p>В случае отказа тормозов эскалатора метро, или при увеличении скорости его движения, рекомендуется:</p> <p>а) перепрыгнуть на соседнюю лестницу; б) сесть на ступеньку, нагнуться, обхватить колени руками; в) крепко держаться за поручень (ленту эскалатора); г) начать движение в противоположную сторону от движения эскалатора.</p>	<p>2</p> <p>1</p>
13	<p>Род войск, не входящий в состав Вооруженных Сил Российской Федерации:</p> <p>а) пограничные войска; б) ракетные войска стратегического назначения; в) воздушно-десантные войска; г) береговые войска.</p>	<p>а</p> <p>2</p>
14	<p>При температуре воздуха выше 0°C более трех дней подряд, прочность льда снижается на:</p> <p>а) 25% б) 30% в) 35% г) 50%</p>	<p>2</p> <p>1</p>
15	<p>Назовите минимальную величину поражения переменным электрическим током, при которой человек не может самостоятельно оторваться от источника электрического тока:</p> <p>а) 5 мА б) 15 мА в) 25 мА г) 50 мА</p>	<p>5</p> <p>2</p>

№	Тестовые задания	Ответ
Выберите все правильные ответы		
16	Из перечисленных названий грибов, выберите съедобные: а) шампиньон желтокожий; б) боровик прекрасный; в) козляк; г) гиропорус синеющий; д) польский гриб; е) свинушка ольховая.	a b e —
17	Какие заболевания передаются половым путем: а) герпес генетальный; б) контагиозный моллюск; в) папилломавирусная инфекция; г) лейкемия; д) паротит; е) филяриатоз.	a b e —
18	Выберите существующие сигналы гражданской обороны: а) Угроза катастрофического затопления б) Химическая тревога в) Биологическая тревога г) Внезапное нападение д) Угроза ядерного удара е) Отбой воздушной тревоги	a b c d —
19	Отметьте существующие виды эвакуации населения: а) Упреждающая б) Сложная в) Федеральная г) Упрощенная д) Частичная е) Экстренная	b d e —
20	Выберите виды военно-прикладного спорта: а) Самбо б) Плавание с автоматом в) Ныряние в длину г) Сборка разборка автомата АК-74 д) Стрельба из лука е) Парусные гонки	a b c —

Оценочные баллы: максимальный – 45 баллов; фактический – 20 баллов

Подписи членов жюри: _____

Иванов
А

Технологическая карта практического тура
муниципального этапа всероссийской олимпиады школьников
по основам безопасности жизнедеятельности
2022-2023 учебный год

Возрастная группа 10-11 классы

Код/шифр			
1	0	0	1

Итог выполнения заданий

№ задания	Задание 1	Задание 2	Задание 3	Задание 4	Сумма баллов
Максимально возможное количество баллов	30	30	25	15	100
Количество штрафных баллов	11	20	0	0	41
Итог	19	10	25	15	69

Председатель (заместитель председателя) жюри _____

С результатом ознакомлен _____

(подпись)