

Шифр 0803

Задания для обучающихся
Теоретический тур
Время выполнения – 90 минут
Максимальный балл – 100 баллов
МОДУЛЬ 1

ЗАДАНИЕ 1. Перелом – полное или частичное нарушение целостности кости. Для него характерны определенные признаки, которые можно разделить на косвенные и достоверные. Запишите номера перечисленных ниже признаков перелома в соответствующий столбец таблицы.





- 1) Деформация конечности
- 2) Костный хруст
- 3) Нарушение функции конечности
- 4) Костные обломки в ране
- 5) Боль
- 6) Укорочение длины конечности
- 7) Припухлость

		Перелом	
		Косвенные признаки	Достоверные признаки
6			5
4			7
3	20		2 20
7			1 20

Оценочные баллы: максимальный – 14 баллов; фактический – 6 баллов

Подписи членов жюри: _____

ЗАДАНИЕ 2. В общественном транспорте можно встретить различные знаки безопасности. Вам предложены некоторые из них. В ячейки под знаками напишите что они означают.

			
аптека 2	держишь за ручку. 2	молоток для экстренного возврата. 2	молоток для экстрен- ной ситуации 2

Оценочные баллы: максимальный – 8 баллов; фактический – 8 баллов

Подписи членов жюри: _____

ЗАДАНИЕ 3. Перечислите естественные причины возникновения лесных пожаров, не связанных с деятельностью человека.

1. сухая трава и палящие солнце. ⊕
2. воспламенение торфа под солнцем +
3. молния +
4. _____

Оценочные баллы: максимальный – 13 баллов; фактический – 4 балла

Подписи членов жюри: _____

ЗАДАНИЕ 4. При купании, от охлаждения тела и переутомления мышц, возникают судороги. Соотнесите судороги частей тела с действиями, помогающими преодолеть их, вставив соответствующую букву в таблицу.






- А) Согнуть ногу в колене, сильно прижать руками пятку по направлению к спине
- Б) Резко сжимать и разжимать пальцы
- В) Энергично подтягивать к животу колени ног
- Г) Поднять ногу над поверхностью воды, энергично подтягивать стопу руками к себе



Вид судороги	1. Судорожное сокращение мышц бедра	2. Судорожное сокращение кистей рук	3. Судорожное сокращение мышц живота	4. Судорожное сокращение икроножной мышцы
Действие	B A	K. G	B.	A P

Оценочные баллы: максимальный – 8 баллов; фактический – 8 баллов

Подписи членов жюри: _____ 

ЗАДАНИЕ 5. Витамины – вещества необходимые организму человека для нормальной жизнедеятельности. Впишите название витамина в таблицу, ориентируясь на источник его происхождения, и заболевание, вызываемое его нехваткой.

№ п/п	Источник витамина	Витамин	Заболевание
1	 Фисташки	B1 +	Бери-бери
2	 Печень	П	Пеллагра
3	 Шиповник	C +	Цинга
4	 Солнце	D +	Рахит
5	 Морковь	K -	Куриная слепота

6			Парестезия
	Кедровый орех		

Оценочные баллы: максимальный – 12 баллов; фактический – 6 баллов

Подписи членов жюри: _____

МОДУЛЬ 2

Тестовые задания

В вопросах с 1 по 15 включительно, выберите только один правильный ответ. В вопросах с 16 по 20 необходимо выбрать несколько правильных ответов. Букву (буквы) выбранного варианта ответа на задание впишите в правый столбец. Если в дальнейшем потребуется корректировка выбранного варианта ответа, то неправильный вариант ответа зачеркивается, а рядом вписывается новый.

№	Тестовые задания	Ответ
Определите один правильный ответ		
1	Владельцы этого домашнего животного имеют пониженный риск возникновения сердечно-сосудистых заболеваний: а) кошка; б) собака; в) попугай; г) корова.	г
2	Опущенная вниз правая рука велосипедиста означает сигнал: а) поворот направо; б) остановка; в) ямы справа; г) поворот налево.	г
3	Николай Зелинский впервые в мире предложил использовать в качестве защиты от отравляющих газов: а) марлю, смоченную водой; б) активированный древесный уголь; в) респиратор «Лепесток»; г) поролоновый фильтр.	б
4	Назовите минимальную температуру, при которой клещи становятся активными: а) -1°C б) +3°C	б

№	Тестовые задания	Ответ
	<input checked="" type="radio"/> в) +10°C г) +18°C	+в. 2
5	Какая из перечисленных ядовитых змей встречается на территории Омской области? а) Степная гадюка <input checked="" type="radio"/> б) Гадюка обыкновенная в) Щитомордник обыкновенный г) Гюрза	б. 2
6	С помощью какого предмета можно определить стороны горизонта? <input checked="" type="radio"/> а) Карманные часы б) Транспорт в) Логарифмическая линейка г) Серебряный нательный крест	а. 2
7	Участником дорожного движения является: <input checked="" type="radio"/> а) водитель; б) пешеход; в) пассажир транспортного средства; <input checked="" type="radio"/> г) все ответы верны.	г. 2
8	Состояние организма называемого горной болезнью может возникнуть у: а) людей, боящихся высоты; б) авиапассажиров; <input checked="" type="radio"/> в) человека, злоупотребляющего пищей насыщенной кремнием; г) пилотов ночных автомобилей.	в. 1
9	Основной путь передачи ветряной оспы: <input checked="" type="radio"/> а) пищевой путь; б) водный путь; в) трансмиссивный; <input checked="" type="radio"/> г) воздушно-капельный.	г. 2
10	Совокупность обстоятельств, при которых вредные факторы, способные причинить ущерб человеку, обществу, государству и окружающей среде, имеют риск реализации, называется: а) опасная ситуация; б) экстремальная ситуация; в) чрезвычайная ситуация; г) катастрофическая ситуация.	в. 2
11	Средством спасения тонущего человека является: а) конец Александра; <input checked="" type="radio"/> б) шина Дитерихса; в) аппарат Елизарова; г) петля Нестерова.	б. 1

№	Тестовые задания	Ответ
12	При падении самолета, наиболее высокие шансы на выживание имеет человек находящийся в: а) кабине пилота; б) передней секции салона; в) местах над крыльями; <input checked="" type="checkbox"/> г) хвостовой части.	2 2
13	Наиболее безопасным для здоровья является огнетушитель: а) водный; б) порошковый; в) воздушно-эмульсионный; <input checked="" type="checkbox"/> г) углекислотный.	2
14	Чрезвычайное событие, связанное с выходом из строя водоподпорного сооружения или его части, и неуправляемым перемещением больших масс воды, приводящих к затоплению обширных территорий называется: а) наводнение; б) авария на химически опасном объекте; в) гидродинамическая авария; г) авария на системах коммунального снабжения.	а
15	Относительная опасность поездки в автомобиле для человека превышает опасность поездки на воздушном транспорте более чем в: а) в 3 раза; <input checked="" type="checkbox"/> б) в 5 раз; <input checked="" type="checkbox"/> в) в 10 раз; г) в 20 раз.	б
Выберите все правильные ответы		
16	Выберите шкалы измерения воздействия землетрясения: <input checked="" type="checkbox"/> а) Шкала Рихтера б) Шкала Галиченко-Голубь в) Шкала Медведева-Шпонхойера-Карника г) Шкала SGUFC д) Шкала Мандельброта <input checked="" type="checkbox"/> е) Шкала Меркалли	а е 2
17	Отметьте существующие способы защиты от подделки банкнот Российской Федерации: <input checked="" type="checkbox"/> а) знаки, видимые на просвет; <input checked="" type="checkbox"/> б) электромагнитная метка; в) рельефные элементы; г) оптически переменная окраска рисунка; д) снабжение банкнот оригинальным запахом;	а б +

№	Тестовые задания	Ответ
	е) применение нестORAемой бумаги.	
18	<p>Выберите верные утверждения правил поведения пассажира на платформе метро.</p> <p><input type="checkbox"/> а) За ограничительную линию разрешается заходить только после полной остановки поезда.</p> <p><input type="checkbox"/> б) Находясь у дверей вагона при остановке поезда, необходимо как можно быстрее зайти в вагон, чтобы выходящие пассажиры не вытолкнули вас наружу.</p> <p><input type="checkbox"/> в) На пути электропоезда разрешается спускаться только в случае крайней необходимости.</p> <p><input checked="" type="checkbox"/> г) Запрещается пользоваться на платформе самокатом и скейтбордом.</p> <p><input type="checkbox"/> д) Звуковой сигнал информирует о запрещении посадки.</p> <p><input type="checkbox"/> е) Если гражданин не успевает добраться до вагона метро, рекомендуется перейти на бег.</p>	<p>а</p> <p>2</p> <p>2</p>
19	<p>Какие утверждения, касающиеся правил эксплуатации лифта, верны?</p> <p><input type="checkbox"/> а) В лифте запрещено перевозить домашних животных.</p> <p><input type="checkbox"/> б) Перевозить крупногабаритный груз в лифте допускается только без присутствия в кабине людей.</p> <p><input checked="" type="checkbox"/> в) Перевозить ребенка в коляске на лифте допускается только в том случае, если ребенок закреплен в коляске ремнями безопасности.</p> <p><input type="checkbox"/> г) Пользоваться лифтом детям дошкольного возраста без сопровождения взрослых запрещено.</p> <p><input checked="" type="checkbox"/> д) Не допускается препятствовать закрытию дверей лифта.</p> <p><input type="checkbox"/> е) Запрещается в лифте перевозить легковоспламеняющиеся жидкости.</p>	<p>б</p> <p>г</p> <p>1</p>
20	<p>Признаками цунами являются:</p> <p><input type="checkbox"/> а) появление трещин в ледяном покрове у берегов;</p> <p><input type="checkbox"/> б) изменение обычного поведения животных;</p> <p><input checked="" type="checkbox"/> в) усиление ветра;</p> <p><input type="checkbox"/> г) свечение в ночном небе;</p> <p><input checked="" type="checkbox"/> д) появление мертвых рыб и морских животных на побережье;</p> <p><input checked="" type="checkbox"/> е) землетрясение.</p>	<p>в</p> <p>д</p> <p>е</p> <p>1</p>

Оценочные баллы: максимальный – 45 баллов; фактический – 20 баллов

Подписи членов жюри:

Сидорова

А

Технологическая карта практического тура
муниципального этапа всероссийской олимпиады школьников
по основам безопасности жизнедеятельности
2022-2023 учебный год

Возрастная группа 7-8 классы

Код/шифр			
0	8	0	3

Итог выполнения заданий

№ задания	Задание 1	Задание 2	Задание 3	Задание 4	Сумма баллов
Максимально возможное количество баллов	25	20	25	30	100
Количество штрафных баллов	0	0	0	20	20
Итого	25	20	25	10	80

Председатель (заместитель председателя) жюри



С результатом ознакомлен _____

(подпись)